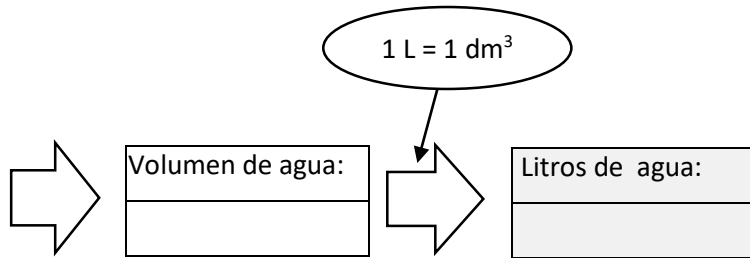


En la ducha...

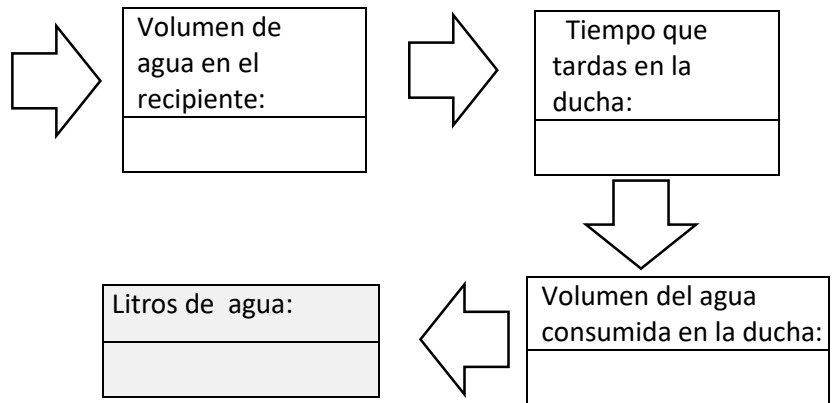
Si tienes bañera:

- Dimensiones de su superficie:
 - _____
 - _____
- Altura que alcanza el agua:



Si tienes plato de ducha:

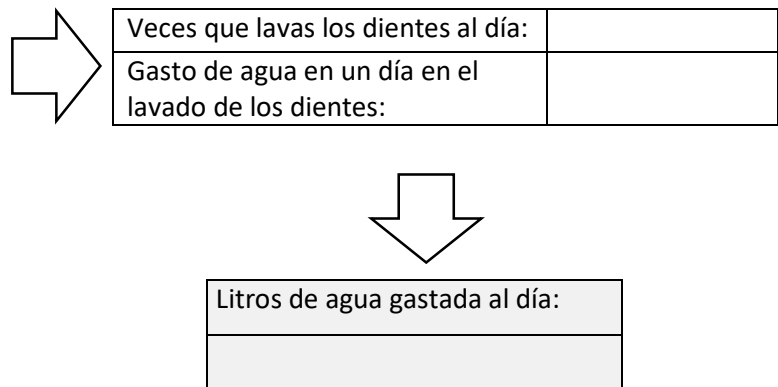
- Dimensiones del recipiente escogido:
 - _____
 - _____
- Con la misma presión de agua con la que sueles ducharte:
 - Tiempo que echas agua en el recipiente: _____
 - Altura que alcanza el agua en el recipiente: _____



Cuando lavas los dientes...

- Dimensiones del recipiente escogido:
 - _____
 - _____
- Altura que alcanza el agua en el recipiente: _____

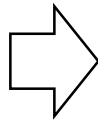
Volumen del agua en el recipiente:



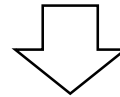
Quando lavas la cara...

- Dimensiones del recipiente escogido:
 - _____
 - _____
 - Altura que alcanza el agua en el recipiente: _____

Volume da auga no recipiente:



Veces que lavas la cara al día:	_____
Gasto de agua en un día:	_____



Litros de agua consumida al día:

En la cocina... Debes calcular cuánto gastas a la semana y aproximar, así, el gasto por día.

Volumen de las distintas ollas que usas para cocinar:	Frecuencia con la que usas las ollas a lo largo de una semana:



- Volumen total de agua gastada en una semana: _____
- Media del volumen de agua gastada por día: _____
- Litros que consumes al día: _____

Para medir el agua gastada en el grifo de la cocina:



- ¿Cuánto tiempo tarda en llenarse un pequeño recipiente de agua? _____
- ¿Cuántos litros hay en ese recipiente? _____

Ahora solo tienes que cronometrar el tiempo que necesitas tener el grifo abierto para hacer la comida a lo largo de la semana:

Tiempo1	Tiempo2	Tiempo3	Tiempo4	Tiempo5	Tiempo6	Tiempo7	Tiempo8	Teimpo9	Tiempo10

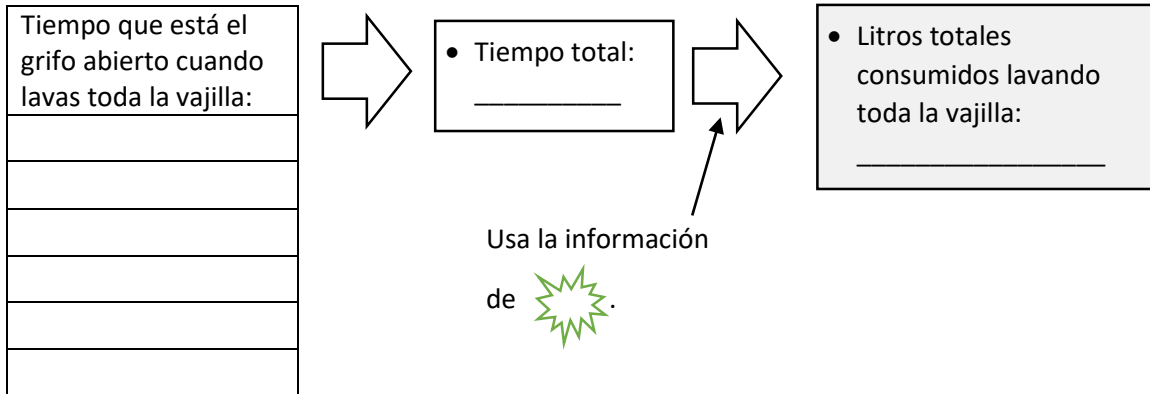
- Entonces... ¿cuántos litros has gastado de media al día? _____

En total, si sumas las cantidades sombreadas en color amarillo obtienes un gasto total de:

Litros de agua que consumes al día al cocinar:

Al lavar la vajilla...

Usando los datos que ya tomaste en  realiza los siguientes cálculos:



Si tienes lavavajillas...

A lo largo de la semana pones el lavavajillas _____ veces.

Buscando información de tu lavavajillas: la media de gasto cada vez que pones el lavavajillas son _____ litros.

En conclusión:

• Al día gastas de media en el lavavajillas: _____ litros.

Con la lavadora...

A lo largo de la semana pones la lavadora _____ veces.

Buscando información de tu lavadora: la media de gasto cada vez que pones la lavadora son _____ litros.

En conclusión:

• Al día gastas de media al lavar la ropa: _____ litros.

En el inodoro...

A lo largo de día usas _____ veces el inodoro.

Buscando información de tu inodoro: en cada descarga, el inodoro expulsa _____ litros de agua.

En conclusión:

• Al día gastas _____ litros en el inodoro.